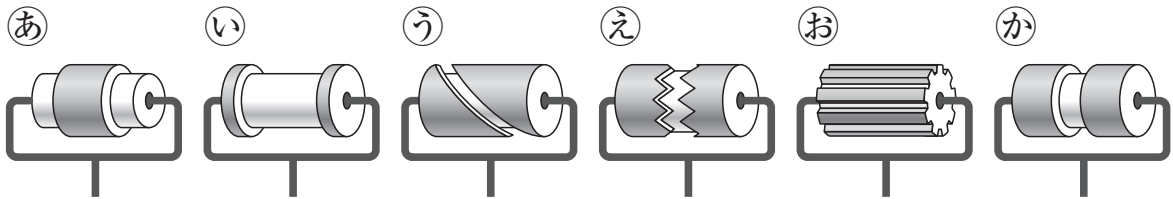




# もんだい 1

## ペンキぬり


右のように たぬきが もっている  
 ローラーに ペンキをつけて、かべの  
 上を ころがすと、1本の 太い 線に  
 なります。下の ①～④の ローラーが  
 あるとき、つぎの もんだいに 答えなさい。




(1) きつねが もっている ローラーは、  
 ①～⑥のうち どれですか。



(2) うさぎが もっている ローラーは、  
 ①～⑥のうち どれですか。

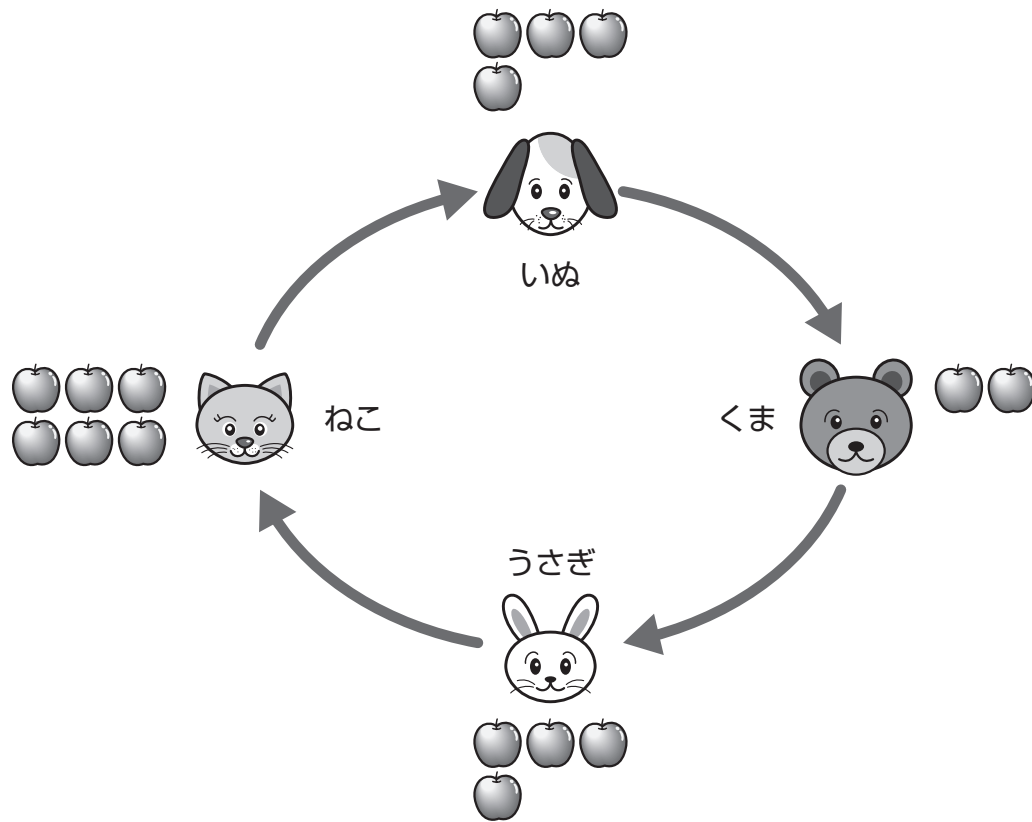


(3) くまは、⑥の ローラーを もって  
 います。このとき、かべには どんな  
 あとが ついて いますか。解答用紙の  
 ⑦の ペンキが ついた ところを  
 ぬりつぶしなさい。



## もんだい 4 りんごは いくつ？

どうぶつが それぞれ 下の <sup>ず</sup> 図の <sup>かず</sup> 数だけ りんごを もって います。



さいしょに いぬが くまに 2こ あげました。  
つぎに くまが うさぎに 2こ あげました。  
つぎに うさぎが ねこに 3こ あげました。  
さいごに ねこが いぬに 4こ あげました。

いぬ, くま, うさぎ, ねこは それぞれ りんごを いくつ もって いますか。