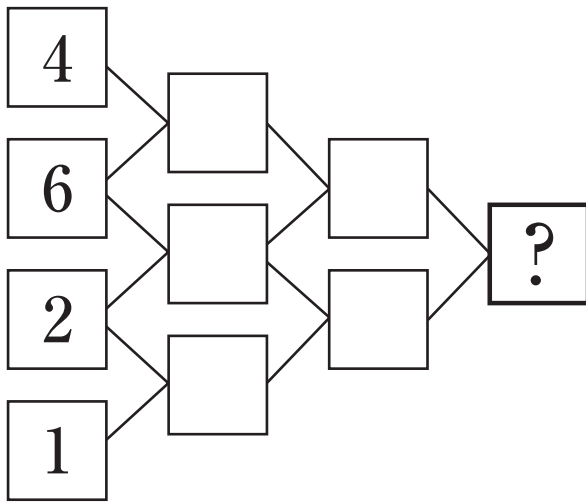
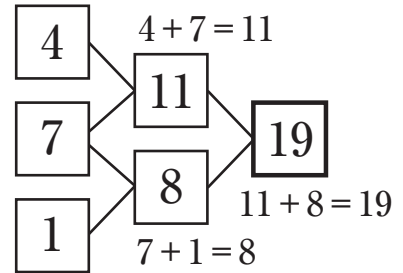


つぎと
次の間に答えなさい。

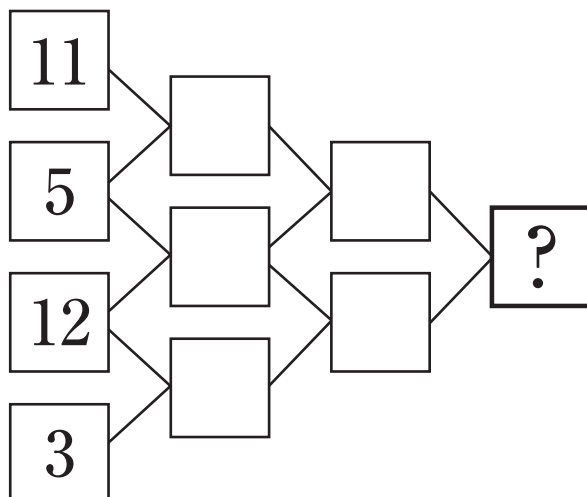
- (1) 右の(れい1)のように、
2つの数をたしていきます。
さいごの答えは何ですか。



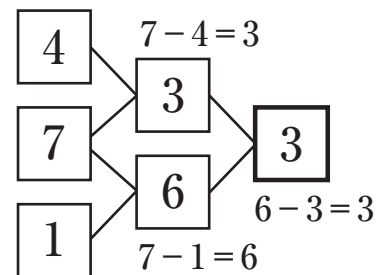
(れい1)



- (2) 右の(れい2)のように、
2つの数の大きいほうから、
小さいほうをひいていきます。
さいごの答えは何ですか。






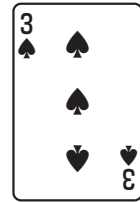
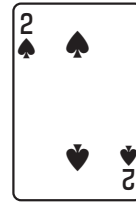
(れい2)



もんだい
問題 6

5まいのトランプ

右のような、2、3、4、5、6
の5まいのトランプを重ねました。
上からじゅんにどのように重ねまし
たか。次のア～オのヒントをよ
上から重なっているじゅんに答えな
さい。



<ヒント>

- ア 6は4より上にあります。
- イ 3は5より下にあります。
- ウ 6は2より上にあります。
- エ 5は4のすぐ下にあります
- オ 2は5より2つ上にあります。